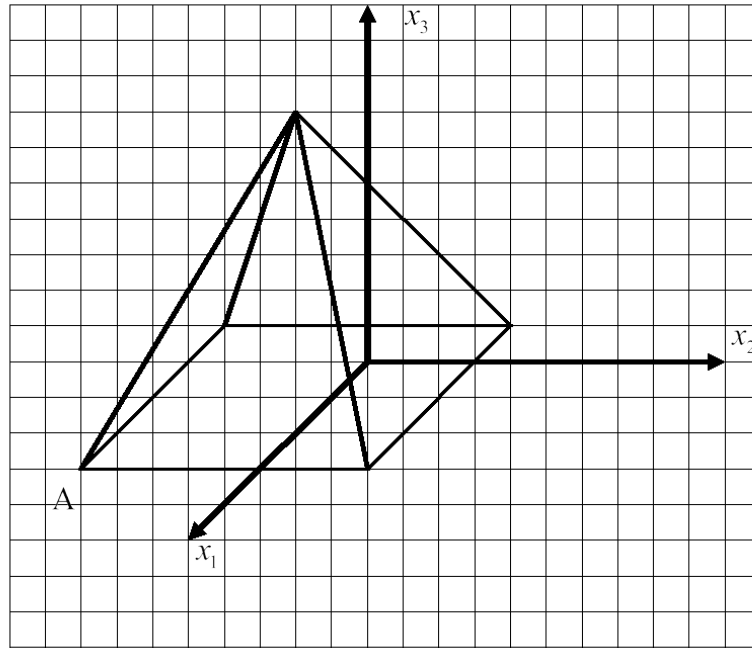



Bereich	Thema	Schwierigkeit
Analytische Geometrie	Punkte im Kartesischen Koordinatensystem - Ablesen von Punkten - Aufgabe 4	**


Gegeben ist das folgende Schrägbild einer Pyramide, der Punkt A hat die Koordinaten $A(1|-3,5|-1)$.



Bestimme die Koordinaten der anderen Eckpunkte der Pyramide.

 2021 Thomas Unkelbach

Bereich	Thema	Schwierigkeit
Analytische Geometrie	Punkte im Kartesischen Koordinatensystem - Ablesen von Punkten - Aufgabe 4	**

 2021 Thomas Unkelbach